



	<p>Задание № 1. У Дори беда с памятью. Помогите ей вспомнить названия драгоценных камней. Выберите правильный вариант ответа:</p> <p>А) амфиболит, слюда, диорит; Б) рубин, изумруд, сапфир; В) гранит, кремень, сланец.</p> <p>Задание № 2. Что достают из раковин морских и речных моллюсков для изготовления украшений?</p> <p>Задание № 3. Чем отличается река от озера?</p>
	<p>Задание № 4. Во время экскурсии маленькие рыбки проплыли самостоятельно 13 метров, затем на скате еще 45 метров. Сколько метров проплыли рыбки во время экскурсии?</p> <p>Задание № 5. Скот дал задание рыбкам считать количество раковин по пути. Немо насчитал сначала 7 раковин, затем еще 23 раковины. Дори – сначала 19 раковин, а потом еще 1/10 суммы тех раковин, которые насчитал Немо. Сколько раковин насчитал каждый из них?</p> <p>Задание № 6. Длина Акулы 6 метров, а Ската – 3 метра. На сколько метров Скот короче Акулы?</p>
	<p>Задание № 7. Дорожка до дома Дори состоит из 48 ракушек. Она проплыла 1/6 пути. Сколько ракушек осталось проплыть Дори, чтобы попасть домой?</p> <p>Задание № 8. Отгадайте загадку:</p> $\text{🐠} * \text{🐠} = 9$ $\text{🐚} * \text{🐚} = 36$ $\text{🐚} * \text{🐠} = ?$
	<p>Задание № 9. Помогите Дори написать текст правильно (вставьте пропущенные буквы, где нужно):</p> <p>Мама любит сирен__вые раку__ки. Чтобы на__ти дом, ну__но плыть по доро__ке из ракушек.</p>
	<p>Задание № 10. Помогите Дори описать предметы по образцу:</p> <p>Камень – каменный Песок – _____ Глина – _____ Стекло – _____</p>

Ответы:

Задание № 1.	
Задание № 2.	
Задание № 3.	
Задание № 4.	
Задание № 5.	
Задание № 6.	
Задание № 7.	
Задание № 8.	
Задание № 9.	
Задание № 10.	

Желаем успеха!