


Задание № 1. Какое самое большое число можно получить перестановкой цифр числа 2017?

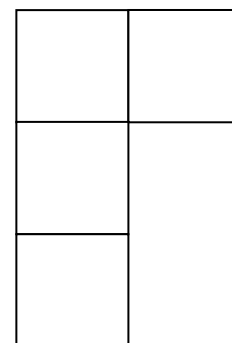
Задание № 2. Кощей Бессмертный нашёл карту подземных туннелей между городами: от Новгорода до Ростова, от Мурома до Чернигова, от Киева до Ростова, от Пскова до Новгорода, от Рязани до Мурома, от Суздаля до Рязани и от Чернигова до Смоленска. В какие города по подземным туннелям может попасть Кощей Бессмертный из Мурома?

Задание № 3. На семейном портрете изображены (слева направо): пёс Шарик, папа, мама, сестра, брат, бабушка и дедушка. Ответьте на вопросы.

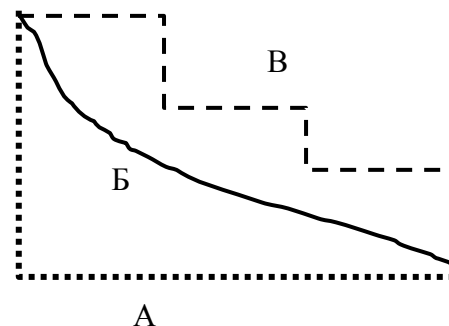


- 1) Сколько человек в семье?
- 2) Кто в семье самый высокий?
- 3) Кто в семье самого маленького роста?
- 4) Кто из мужчин самый полный?

Задание № 4. Дачный участок имеет форму буквы Г. Бабушка хочет посадить картошку, а дедушка – подсолнечник. Помогите разделить участок одной прямой линией на две равные части.



Задание № 5. Шарик побежал по дороге А, бабушка пошла по дороге Б, а дедушка – по дороге В. Какая дорога короче?



Ответы:

Задание № 1.							
Задание № 2.							
Задание № 3.	1) 2) 3) 4)						
Задание № 4.	<table border="1"><tr><td></td><td></td></tr><tr><td></td><td></td></tr><tr><td></td><td></td></tr></table>						
Задание № 5.							

Желаем успеха!